


**MATEMATIK - KONTROLLBLANKETT:
FÖRSKOLA - VINTER**

Poängsättning: Varje rätt svar ger ett poäng och varje fel svar ger noll poäng. Om barnet har gett flera svarsalternativ på samma uppgift poängsätts uppgiften med noll poäng. Även obesvarade uppgifter ger noll poäng.

ANTALSUPPFATTNING (ATU)

Storleksordning - störst


	Vilket tal är störst?	<table border="1"><tr><td>9</td><td>4</td><td>7</td></tr></table>	9	4	7
9	4	7			
	Vilket tal är störst?	<table border="1"><tr><td>6</td><td>5</td><td>8</td></tr></table>	6	5	8
6	5	8			
	Vilket tal är störst?	<table border="1"><tr><td>5</td><td>4</td><td>6</td></tr></table>	5	4	6
5	4	6			

Storleksordning - minst

	Vilket tal är minst?	<table border="1"><tr><td>7</td><td>5</td><td>6</td></tr></table>	7	5	6
7	5	6			
	Vilket tal är minst?	<table border="1"><tr><td>6</td><td>10</td><td>8</td></tr></table>	6	10	8
6	10	8			
	Vilket tal är minst?	<table border="1"><tr><td>9</td><td>7</td><td>8</td></tr></table>	9	7	8
9	7	8			

RÄKNEFÄRDIGHETER (RF)


Att behärska talsymboler: Räkneord - antal

	Jag säger ett tal (6). På vilken bild finns det lika många prickar? ...	<table border="1"><tr><td>7</td><td>6</td><td>5</td></tr></table>	7	6	5
7	6	5			
	Jag säger ett tal (10). På vilken bild finns det lika många prickar? ..	<table border="1"><tr><td>9</td><td>8</td><td>10</td></tr></table>	9	8	10
9	8	10			


Att behärska talsymboler: Räkneord - talsymbol

Jag säger ett tal (8). Sätt kryss på samma tal.	<table border="1"><tr><td>7</td><td>9</td><td>8</td></tr></table>	7	9	8
7	9	8		
Jag säger ett tal (9). Sätt kryss på samma tal.	<table border="1"><tr><td>9</td><td>6</td><td>8</td></tr></table>	9	6	8
9	6	8		


Att behärska talsymboler: Antal - talsymbol

	Hur många prickar är det på bilden?	<table border="1"><tr><td>8</td><td>6</td><td>9</td></tr></table>	8	6	9
8	6	9			
	Hur många prickar är det på bilden?	<table border="1"><tr><td>10</td><td>7</td><td>9</td></tr></table>	10	7	9
10	7	9			

Att behärska talsymboler: Talsymbol - antal

	Här är ett tal (7). Sätt kryss på den bild där det finns lika många prickar.....	<table border="1"><tr><td>7</td><td>5</td><td>8</td></tr></table>	7	5	8
7	5	8			
	Här är ett tal (10). Sätt kryss på den bild där det finns lika många prickar	<table border="1"><tr><td>15</td><td>10</td><td>9</td></tr></table>	15	10	9
15	10	9			

Att bestämma antal genom räkning

	Hur många bollar är gömda då pojken har sammanlagt FEM bollar (2 synliga)?	<table border="1"><tr><td>3</td></tr></table>	3
3			
	Hur många bollar är gömda då flickan har sammanlagt TIO bollar (6 synliga)?	<table border="1"><tr><td>4</td></tr></table>	4
4			
	Hur många bollar är gömda då pojken har sammanlagt ÅTTA bollar (3 synliga)?	<table border="1"><tr><td>5</td></tr></table>	5
5			

RÄKNEFÄRDIGHETER (RF)

Uppräkning av talraden (individuell del)

Framåt	<table border="1"><tr><td>1→10</td><td>11→20</td><td>21→30</td></tr></table>	1→10	11→20	21→30
1→10	11→20	21→30		
Bakåt	<table border="1"><tr><td>5→1</td><td>12→8</td><td>20→16</td></tr></table>	5→1	12→8	20→16
5→1	12→8	20→16		
Framåt med hopp (varannan)	<table border="1"><tr><td>2→10</td><td>12→18</td></tr></table>	2→10	12→18	
2→10	12→18			