

MATEMATIK - KONTROLLBLANKETT:
ÅRSKURS 1 - VÅR

Poängsättning: Varje rätt svar ger ett poäng och varje fel svar ger noll poäng. Om barnet har gett flera svarsalternativ på samma uppgift poängsätts uppgiften med noll poäng. Även obesvarade uppgifter ger noll poäng.

ANTALSUPPFATTNING (ATU)

Storleksordning - störst



Vilket tal är störst?	63	59	48	61
Vilket tal är störst?	66	91	78	89
Vilket tal är störst?	122	102	201	112

Storleksordning - minst



Vilket tal är minst?	72	70	76	81
Vilket tal är minst?	89	91	88	98
Vilket tal är minst?	107	170	117	171

FÖRSTÅELSE FÖR MATEMATISKA SAMBAND (FMS)

Talföljder



Vilket är det följande talet?	5, 6, 7 ...	8
Vilket är det följande talet?	6, 8, 10 ...	12
Vilket är det följande talet?	5, 10, 15 ...	20



Vilket är det följande talet?	7, 6, 5 ...	4
Vilket är det följande talet?	8, 6, 4 ...	2
Vilket är det följande talet?	9, 7, 5 ...	3

ARITMETISKA BASFÄRDIGHETER (ABF)

Addition med symboler



3+7	10	9+3	12
6+9	15	7+8	15
4+8	12	9+7	16

Subtraktion med symboler



12-3	9	11-8	3
15-9	6	13-6	7
14-7	7	16-7	9

Addition, komplettering



5+_=7	2	_+2=6	4
2+_=10	8	_+5=9	4

Subtraktion, komplettering



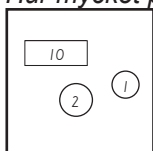
5-_=2	3	_ -3=1	4
10-_=4	6	_ -5=3	8

TILLÄMPNING AV POSITIONSSYSTEMET GENOM RÄKNING (TPR*)

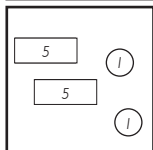
Räkna pengar



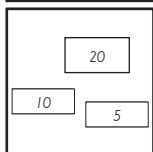
Hur mycket pengar finns det sammanlagt?



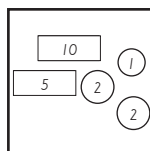
13



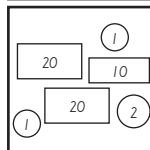
12



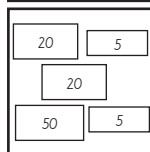
35



20



54



100